

Nome: _____

Faculdade: _____

E-mail(s): _____ Tels.: _____

Horário da Faculdade: Manhã () Tarde () Noite ()

Trabalha? Sim () Das ____ às ____ Faz estágio? Sim () Das ____ às ____

Não () Não ()

Prova de Conhecimentos Gerais

1. A moderna democracia brasileira foi construída entre saltos e sobressaltos. Em 1954, a crise culminou no suicídio do presidente Vargas. No ano seguinte, outra crise quase impediu a posse do presidente eleito, Juscelino Kubitschek. Em 1961, o Brasil quase chegou à guerra civil depois da inesperada renúncia do presidente Jânio Quadros. Três anos mais tarde, um golpe militar depôs o presidente João Goulart, e o país viveu durante vinte anos em regime autoritário.

A partir dessas informações, relativas à história republicana brasileira, assinale a opção correta.

- a) Ao término do governo João Goulart, Juscelino Kubitschek foi eleito presidente da República.
- b) A renúncia de Jânio Quadros representou a primeira grande crise do regime republicano brasileiro.
- c) Após duas décadas de governos militares, Getúlio Vargas foi eleito presidente em eleições diretas.
- d) A trágica morte de Vargas determinou o fim da carreira política de João Goulart.
- e) No período republicano citado, sucessivamente, um presidente morreu, um teve sua posse contestada, um renunciou e outro foi deposto.

-
2. Os textos a seguir foram extraídos de duas crônicas publicadas no ano em que a seleção brasileira conquistou o tricampeonato mundial de futebol.

O General Médici falou em consistência moral. Sem isso, talvez a vitória nos escapasse, pois a disciplina consciente, livremente aceita, é vital na preparação espartana para o rude teste do campeonato. Os brasileiros portaram-se não apenas como técnicos ou profissionais, mas como brasileiros como cidadãos deste grande país, cômicos de seu papel de representantes de seu povo. Foi à própria afirmação do valor do homem brasileiro, como salientou bem o presidente da República. Que o chefe do governo aproveite essa pausa, esse minuto de euforia e de efusão

patriótica, para meditar sobre a situação do país. (...) A realidade do Brasil é a explosão patriótica do povo ante a vitória na Copa. (Danton Jobim. Última Hora, 23/6/1970 (com adaptações)).

O que explodiu mesmo foi a alma, foi a paixão do povo: uma explosão incomparável de alegria, de entusiasmo, de orgulho. (...) Debruçado em minha varanda de Ipanema, [um velho amigo] perguntava: - Será que algum terrorista se aproveitou do delírio coletivo para adiantar um plano seu qualquer, agindo com frieza e precisão? Será que, de outro lado, algum carrasco policial teve ânimo para voltar a torturar sua vítima logo que o alemão apitou o fim do jogo? (Rubem Braga. Última Hora, 25/6/1970 (com adaptações)).

Avalie as seguintes afirmações a respeito dos dois textos e do período histórico em que foram escritos.

- I. Para os dois autores, a conquista do tricampeonato mundial de futebol provocou uma explosão de alegria popular.
- II. Os dois textos salientam o momento político que o país atravessava ao mesmo tempo em que conquistava o tricampeonato.
- III. À época da conquista do tricampeonato mundial de futebol, o Brasil vivia sob regime militar, que, embora politicamente autoritário, não chegou a fazer uso de métodos violentos contra seus opositores.

É correto apenas o que se afirma em:

- a) I. b) II. c) III. d) I e II. e) II e III.

3. Os mapas a seguir revelam como as fronteiras e suas representações gráficas são mutáveis.



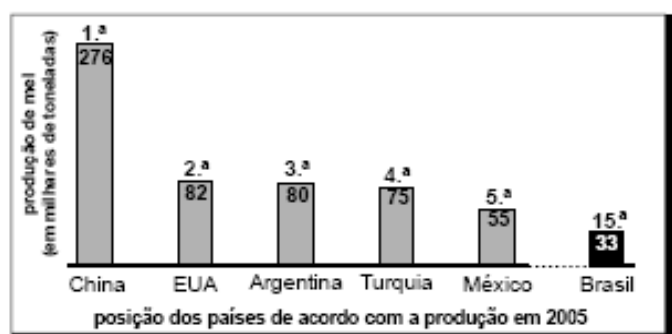
Essas significativas mudanças nas fronteiras de países da Europa Oriental nas duas últimas décadas do século XX, direta ou indiretamente, resultaram:

- a) do fortalecimento geopolítico da URSS e de seus países aliados, na ordem internacional.
 - b) da crise do capitalismo na Europa, representada principalmente pela queda do muro de Berlim.
 - b) da luta de antigas e tradicionais comunidades nacionais e religiosas oprimidas por Estados criados antes da Segunda Guerra Mundial.
 - c) do avanço do capitalismo e da ideologia neoliberal no mundo ocidental.
 - e) da necessidade de alguns países subdesenvolvidos ampliarem seus territórios.
-

4. Em 1947, a Organização das Nações Unidas (ONU) aprovou um plano de partilha da Palestina que previa a criação de dois Estados: um judeu e outro palestino. A recusa árabe em aceitar a decisão conduziu ao primeiro conflito entre Israel e países árabes. A segunda guerra (Suez, 1956) decorreu da decisão egípcia de nacionalizar o canal, ato que atingia interesses anglo franceses e israelenses. Vitorioso, Israel passou a controlar a Península do Sinai. O terceiro conflito árabe-israelense (1967) ficou conhecido como Guerra dos Seis Dias, tal a rapidez da vitória de Israel. Em 6 de outubro de 1973, quando os judeus comemoravam o Yom Kippur (Dia do Perdão), forças egípcias e sírias atacaram de surpresa Israel, que revidou de forma arrasadora. A intervenção americano-soviética impôs o cessar-fogo, concluído em 22 de outubro. A partir do texto acima, assinale a opção correta.

- a) A primeira guerra árabe-israelense foi determinada pela ação bélica de tradicionais potências européias no Oriente Médio.
 - b) Na segunda metade dos anos 1960, quando explodiu a terceira guerra árabe-israelense, Israel obteve rápida vitória.
 - c) A guerra do Yom Kippur ocorreu no momento em que, a partir de decisão da ONU, foi oficialmente instalado o Estado de Israel.
 - d) A ação dos governos de Washington e de Moscou foi decisiva para o cessar-fogo que pôs fim ao primeiro conflito árabe-israelense.
 - e) Apesar das sucessivas vitórias militares, Israel mantém suas dimensões territoriais tal como estabelecido pela resolução de 1947 aprovada pela ONU.
-

5.



Globo Rural, jun./2007.

É título adequado para a matéria jornalística em que o gráfico acima seja apresentado:

- a) Apicultura: Brasil ocupa a 33ª. posição no *ranking* mundial de produção de mel - as abelhas estão desaparecendo no país.
 - b) O milagre do mel: a apicultura se expande e coloca o país entre os seis primeiros no *ranking* mundial de produção.
 - c) Pescadores do mel: Brasil explora regiões de mangue para produção do mel e ultrapassa a Argentina no *ranking* mundial.
 - d) Sabor bem brasileiro: Brasil inunda o mercado mundial com a produção de 15 mil toneladas de mel em 2005.
 - e) Sabor de mel: China é o gigante na produção de mel no mundo e o Brasil está em 15º lugar no *ranking*.
-

6. O artigo 1.º da Lei Federal N.º 9.433/1997 (Lei das Águas) estabelece, entre outros, os seguintes fundamentos:

- I. a água é um bem de domínio público;
- II. a água é um recurso natural limitado, dotado de valor econômico;
- III. em situações de escassez, os usos prioritários dos recursos hídricos são o consumo humano e a dessedentação de animais;
- IV. a gestão dos recursos hídricos deve sempre proporcionar o uso múltiplo das águas.

Considere que um rio nasça em uma fazenda cuja única atividade produtiva seja a lavoura irrigada de milho e que a companhia de águas do município em que se encontra a fazenda colete água desse rio para abastecer a cidade. Considere, ainda, que, durante uma estiagem, o volume de água do rio tenha chegado ao nível crítico, tornando-se insuficiente para garantir o consumo humano e a atividade agrícola mencionada.

Nessa situação, qual das medidas abaixo estaria de acordo com o artigo 1.º da Lei das Águas?

- a) Manter a irrigação da lavoura, pois a água do rio pertence ao dono da fazenda.
 - b) Interromper a irrigação da lavoura, para se garantir o abastecimento de água para consumo humano.
 - c) Manter o fornecimento de água apenas para aqueles que pagam mais, já que a água é bem dotado de valor econômico.
 - d) Manter o fornecimento de água tanto para a lavoura quanto para o consumo humano, até o esgotamento do rio.
 - e) Interromper o fornecimento de água para a lavoura e para o consumo humano, a fim de que a água seja transferida para outros rios.
-

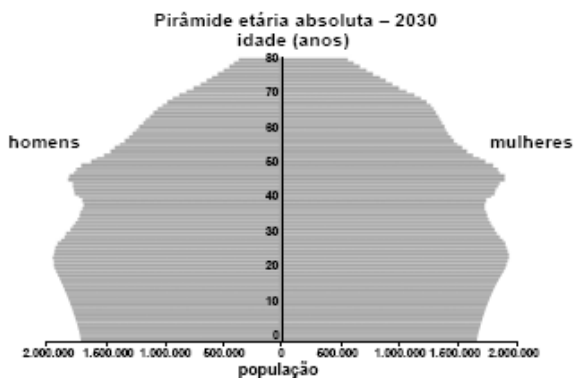
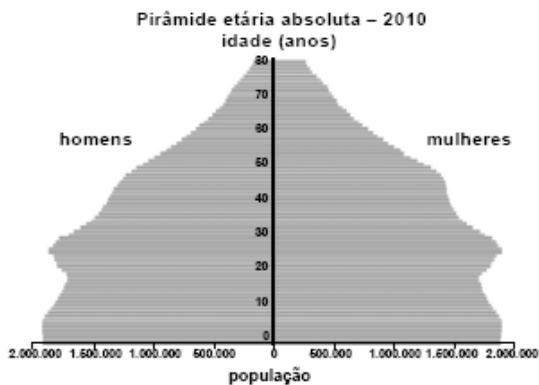
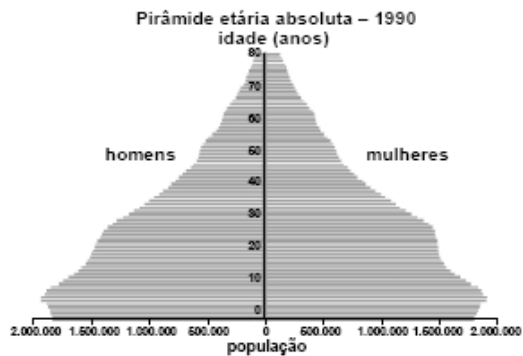
7. Na América do Sul, as Forças Armadas Revolucionárias da Colômbia (Farc) lutam, há décadas, para impor um regime de inspiração marxista no país. Hoje, são acusadas de envolvimento com o narcotráfico, o qual supostamente financia suas ações, que incluem ataques diversos, assassinatos e seqüestros. Na Ásia, a Al Qaeda, criada por Osama bin Laden, defende o fundamentalismo islâmico e

vê nos Estados Unidos da América (EUA) e em Israel inimigos poderosos, os quais deve combater sem trégua. A mais conhecida de suas ações terroristas ocorreu em 2001, quando foram atingidos o Pentágono e as torres do World Trade Center.

A partir das informações acima, conclui-se que:

- a) as ações guerrilheiras e terroristas no mundo contemporâneo usam métodos idênticos para alcançar os mesmos propósitos.
 - b) o apoio internacional recebido pelas Farc decorre do desconhecimento, pela maioria das nações, das práticas violentas dessa organização.
 - c) os EUA, mesmo sendo a maior potência do planeta, foram surpreendidos com ataques terroristas que atingiram alvos de grande importância simbólica.
 - d) As organizações mencionadas identificam-se quanto aos princípios religiosos que defendem.
 - e) tanto as Farc quanto a Al Qaeda restringem sua atuação à área geográfica em que se localizam, respectivamente, América do Sul e Ásia.
-

8. Os gráficos abaixo, extraídos do sítio eletrônico do IBGE, apresentam a distribuição da população brasileira por sexo e faixa etária no ano de 1990 e projeções dessa população para 2010 e 2030.



A partir da comparação da pirâmide etária relativa a 1990 com as projeções para 2030 e considerando-se os processos de formação socioeconômica da população brasileira, é correto afirmar que:

- a expectativa de vida do brasileiro tende a aumentar na medida em que melhoram as condições de vida da população.
- a população do país tende a diminuir na medida em que a taxa de mortalidade diminui.
- a taxa de mortalidade infantil tende a aumentar na medida em que aumenta o índice de desenvolvimento humano.
- a necessidade de investimentos no setor de saúde tende a diminuir na medida em que aumenta a população idosa.
- o nível de instrução da população tende a diminuir na medida em que diminui a população.

7. A Lei Federal N.º 11.097/2005 dispõe sobre a introdução do *biodiesel* na matriz energética brasileira

e fixa em 5%, em volume, o percentual mínimo obrigatório a ser adicionado ao óleo *diesel* vendido ao consumidor. De acordo com essa lei, biocombustível é “derivado de biomassa renovável para uso em motores a combustão interna com ignição por compressão ou, conforme regulamento, para geração de outro tipo de energia, que possa substituir parcial ou totalmente combustíveis de origem fóssil”.

A introdução de biocombustíveis na matriz energética brasileira

- a) colabora na redução dos efeitos da degradação ambiental global produzida pelo uso de combustíveis fósseis, como os derivados do petróleo.
- b) provoca uma redução de 5% na quantidade de carbono emitido pelos veículos automotores e colabora no controle do desmatamento.
- c) incentiva o setor econômico brasileiro a se adaptar ao uso de uma fonte de energia derivada de uma biomassa inesgotável.
- d) aponta para pequena possibilidade de expansão do uso de biocombustíveis, fixado, por lei, em 5% do consumo de derivados do petróleo.
- e) diversifica o uso de fontes alternativas de energia que reduzem os impactos da produção do etanol por meio da monocultura da cana-de-açúcar.

10. A figura abaixo representa o boleto de cobrança da mensalidade de uma escola, referente ao mês de junho de 2008.

Banco S.A.	
Pagável em qualquer agência bancária até a data de vencimento	vencimento 30/06/2008
Cedente Escola de Ensino Médio	Agência/cód. cedente
Data documento 02/06/2008	Nosso número
Uso do banco	(-) Valor documento R\$ 500,00
Instruções Observação: no caso de pagamento em atraso, cobrar multa de R\$ 10,00 mais 40 centavos por dia de atraso.	(-) Descontos
	(-) Outras deduções
	(+) Mora/Multa
	(+) Outros acréscimos
	(-) Valor Cobrado

Se $M(x)$ é o valor, em reais, da mensalidade a ser paga, em que x é o número de dias em atraso, então:

- a) $M(x) = 500 + 0,4x$
- b) $M(x) = 500 + 10x$
- c) $M(x) = 510 + 0,4x$
- d) $M(x) = 510 + 40x$
- e) $M(x) = 500 + 10,4x$

Prova de Português

BEM-VINDO À ERA DA CIDADANIA DIGITAL

Ricardo Neves

Temos vivido um círculo vicioso de eleger candidatos, sofrer decepções e ver discursos indignados contra corrupção e desgoverno. Lá vamos nós, em mais uma eleição, à cata de novos candidatos a salvador da pátria para botar no Executivo e no Legislativo. Parte da solução do problema de transformar esta nossa democracia é aprender a usar a internet. Em minha última coluna, apresentei-me como um neo-anarquista digital. Convidei leitores dispostos a usar ferramentas da internet para mudar a política brasileira, a enviar e-mails para mim. Recebi mensagens de muita gente disposta a testar idéias inovadoras para vencer o pessimismo.

Há tempos navego na internet minerando dados e informações. Você precisa ver o ouro que ali existe e se convencer de que parte da solução do problema de transformar nossa democracia é aprender a usar ferramentas ainda desconhecidas. Para dar um tranco cidadão nesta nossa democracia, é hora de reconhecer que temos de usar idéias novas para melhorar nosso processo de escolha, fazer opções mais realistas e melhorar o modo de acompanhar e cobrar dos eleitos que exerçam uma representação mais responsável.

Veja, por exemplo, no caso do mensalão, se o problema não está mais para mudar o sistema que simplesmente trocar os políticos. Monitorada de pertinho pela opinião pública através da imprensa, a Comissão de Ética fez sua parte e, com base nas CPIs, recomendou, de forma clara, cristalina e contundente, a cassação de 19 deputados envolvidos. As recomendações de cassações foram para votação em plenário. Aí tivemos apenas três cassados e 11 absolvidos. Quatro deputados renunciaram para escapar da cassação e um ainda espera julgamento do plenário.

Por que tantos escaparam da cassação que o Conselho de Ética recomendou com tamanha veemência? Será porque a maioria absoluta dos deputados e senadores é uma corja? Bem, parte significativa pode ser mesmo de bandidos ou picaretas. De acordo com o Ministério Público, pelo menos 20% deles têm algum tipo de processo em cima. A CPI das Sanguessugas estima cerca de cem parlamentares envolvidos. Mas é preciso fazer uma avaliação mais consistente: o sistema favorece mais aos pilantras que à turma do Bem.

A crise de impunidade do mensalão mostra que o grande problema está no regimento interno do Congresso. Ele garante o voto secreto a deputados e senadores em plenário. Como num jogo de compadres com rabo preso, a banda podre da Câmara, escondida atrás do voto secreto, trocou favores com os acusados. Aí deu em pizza. Representante eleito tem de ter seu voto declarado e público, para que possamos saber a que interesses eles estão realmente servindo. Quem precisa de voto secreto somos nós, eleitores, que temos de ter garantias de que não seremos coagidos a votar em candidatos impostos por terceiros.

Para descobrir a quantas anda o movimento pelo fim do voto secreto na Câmara dos Deputados, resolvi entrar em contato com nossos digníssimos representantes pela internet. Nos portais da Câmara e do Senado, obtive a lista de e-mails de todos os deputados. Enviei a todos um e-mail pessoal, assinado com meu nome completo e meu número de título de eleitor. Para todos os 513 deputados e 83 senadores, um a um, perguntando a posição acerca da necessidade de aprovação de um projeto pelo fim do voto secreto. Funcionou?

Vamos ao resultado dos meus testes de contato. Deletaram sem ler minha mensagem 177 deputados e 27 senadores. Leram e não responderam 111 deputados e 34 senadores. Responderam pelo próprio punho ou por meio de seus assessores 22 deputados e quatro senadores, todos dizendo de forma assertiva que eram contra o voto secreto e se comprometendo a trabalhar pelo fim do mesmo. Nota dez para os senadores Jefferson Peres (PDT-AM) e Álvaro Dias (PSDB-PR). Eles responderam de bate-pronto, em menos de dez minutos, sem mediação dos assessores. Além desses, responderam também o senador Paulo Paim (PT-RS) e Arthur Virgílio (PSDB-AM).

Fiquei muito decepcionado com parlamentares que me pareciam prometer uma performance democrática mais contemporânea do novo tempo digital que se inicia. Sobretudo, entre aqueles que deletaram sem sequer ler, caso do senador Suplicy (PT-SP). Foi curioso constatar que Sarney e ACM, velhas raposas sobreviventes do velho e oligárquico esquema de democracia, leram e não responderam. Seus descendentes deletaram sem ler, como os deputados Zeca e Roseana Sarney ou o deputado ACM Neto. Em meu blog, veja a lista completa de quem responde e de quem nem está aí.

Como mostra esse caso, a internet oferece um mundo de informações e dados fundamentais para jogar o jogo da democracia de forma substantiva, bem fundamentada e transparente. Na seção Transparência, no Portal do Congresso, você pode acompanhar o que quiser: atividades de comissões, plenários, gabinetes, agenda etc. **Ali**, você também pode checar a prestação de contas de cada parlamentar em termos de dinheiro recebido no exercício do mandato. Cada deputado ganha mensalmente R\$ 12.847, mas tem direito a reembolso adicional de uma série de itens (combustível, assessoria, estudos de consultoria, móveis etc.). No total, **eles** podem chegar a receber R\$ 15 mil por mês.

Dá para rastrear até os casos de suplente que assume a vaga de deputado, não vai a nenhuma sessão, mas, mesmo assim, apresenta pedidos de reembolso. Você pode saber quanto cada parlamentar solicita mês a mês de reembolso. Foi por ali que o jornal O Globo descobriu a farra da gasolina. Tinha parlamentar levando R\$ 15 mil na forma de reembolso de gasolina pela maior facilidade de conseguir esse tipo de recibo que para outros tipos de despesa. Apenas três dias depois da reportagem, a cota de reembolso caiu para até R\$ 4.500, cerca 30% do valor anterior.

Com o Portal do Senado, não posso ter o mesmo entusiasmo. O objetivo fundamental de um portal digital de instituição do setor público deve ser promover a transparência, e não fazer propaganda institucional. O Portal do Senado tem a cara opaca de raposas obscurantistas da política dos tempos das velhas oligarquias, sem o mínimo interesse em promover a transparência e governança cidadã.

Como eu, você pode começar sua lista pessoal de possíveis candidatos garimpando no Portal do Congresso e no do Senado. Tente o contato direto com os caras lá em Brasília. Lembre-se: é importante ter foco nos representantes de seu Estado. Não tente, logo de cara, ser um consertador do país inteiro. Se você não encontrar alguém confiável entre os atuais representantes de seu Estado, aí sim, parta para pesquisar novos nomes.

Deixe de se sentir como vítima. Vivemos um novo tempo, cheio de possibilidades para o indivíduo. Mais informação, maior capacidade de se articular em redes, maior capacidade de fazer desta uma eleição diferente graças a uma minoria animada. Aquela que, com sabedoria e liderança, democraticamente, faz a maioria dançar. Vá de Google. Navegue. Interaja. Circule seus e-mails. Publique seus posts em blogs. Se estivermos interessados mesmo em fazer acontecer uma ruptura com o que está aí, o ponto de partida é começar a produzir rupturas dentro de nossos próprios cotidianos como indivíduos. Bem-vindo aos tempos da ação cidadã digital.

FONTE: Texto publicado pela revista Época em 31\07\2006

1. Apesar do texto ter sido publicado em 2006, pode ser considerado atual. Aponte o comentário jornalístico que se relaciona mais diretamente com as idéias discutidas no 3º parágrafo e com o “escândalo” político que tem tomado espaço nas edições de O POVO das últimas semanas:

- a) “De acordo com a norma constitucional, perderá o mandato o deputado ou o senador que faltar à terça parte das sessões ordinárias da Casa a que pertencer, salvo licença ou missão por esta autorizada.” (28\07)
- b) “Senado analisa impressão de voto a partir de 2014.” (27\07)
- c) “Para o senador cearense Flávio Torres (PDT), as investigações das denúncias que recaem sobre o presidente do Senado Federal, José Sarney (PMDB-MA), só terão credibilidade se Sarney for afastado do Senado.” (24\07)
- d) “A sequência de irregularidades na direção do Senado, tem origens mais remotas do que se pensava.” (20\07)
- e) “A avaliação do senador é a de que apenas o Conselho de Ética poderia solucionar o problema definitivamente. Pesam contra Sarney denúncias que o responsabilizam pela edição de atos secretos e ainda por suposta participação em um esquema de desvio de dinheiro...” (28\07)

2. De acordo com as ideias do texto, estabeleça uma relação de sentido entre as palavras grifadas nas frases abaixo, indicadas na Coluna 1, e os significados existentes na Coluna 2.

Coluna 1

- I – “... apresentei-me como um neo-anarquista digital.”
II – “Você precisa ver o ouro que ali existe...”
III – “Para dar um tranco cidadão nesta nossa democracia...”
IV – “...a maioria absoluta dos deputados e senadores é uma corja?”
V – “...a cara opaca de raposas obscurantistas da política”

Coluna 2

- () Informações importantes.
() Políticos corruptos.
() Pessoas desprezíveis.
() Pessoa libertária.
() Abalo social.
A sequência correta de correspondência é:
a) III, V, IV, II, I
b) II, V, IV, I, III
c) III, IV, I, II, V
d) II, IV, V, III, I
e) I, IV, III, V, II

3.) De acordo com o texto, é possível identificar ausência de ironia no trecho:

- a) “Lá vamos nós, em mais uma eleição, à cata de novos candidatos a salvador da pátria...”
b) “... cara opaca de raposas obscurantistas da política dos tempos das velhas oligarquias, sem o mínimo interesse em promover a transparência e governança cidadã.”
c) “... resolvi entrar em contato com nossos digníssimos representantes pela internet.”
d) “Deixe de se sentir como vítima. Vivemos um novo tempo, cheio de possibilidades para o indivíduo.”
e) “Como num jogo de compadres com rabo preso, a banda podre da Câmara...”

4. No 3º parágrafo o exemplo do mensalão serviu para sustentar que ideia?

- a) A impunidade encoraja os políticos a serem corruptos.
b) Para mudar essa realidade é preciso usar a internet.
c) O sistema oligárquico ainda não acabou.
d) Em Brasília tudo termina em “pizza”.
e) O sistema político favorece a corrupção.

5. Qual a ideia-chave do 5º parágrafo?

- a) Os eleitores brasileiros precisam do voto secreto.
b) A falta de prestígio político das comissões de ética.
c) A impunidade é o maior problema do congresso.
d) O regimento do congresso não deve mais admitir o voto secreto.
e) A troca de favores entre os políticos.

6. Observe as quatro palavras em negrito no 9º parágrafo e, a partir dos estudos sobre coesão textual, identifique a classificação correta desses conectivos, respectivamente:

- a) **adição**, retomada, oposição, retomada.
b) **comparação**, localização, oposição, retomada.
c) **explicação**, localização, comparação, paralelismo.
d) **adição**, conclusão, oposição, localização.
e) **reiteração**, retomada, comparação, conclusão.

7. Assinale a alternativa em que a idéia central do 1º parágrafo foi escrita sob o cuidado das regras de pontuação.

- a) Uma das formas de solucionar o problema é saber usar a internet, com o objetivo mudar nossa democracia.
- b) O melhor é aprender, logo a ser um neo-anarquista digital para assim ser cidadão.
- c) Para solucionar o problema é preciso letramento digital, ou seja saber usar a internet.
- d) Ser um neo-anarquista digital é antes de tudo exercer ação de cidadania mas garimpando informações.
- e) Ação cidadã e uso da internet, devem caminhar juntos porém cuidado com os excessos.

8. Quanto ao estudo das funções de linguagem, identifique no último parágrafo, as que se apresentam de modo predominante e secundário, respectivamente.

- a) Emotiva e Referencial.
- b) Referencial e Metalinguística.
- c) Fática e Poética.
- d) Emotiva e Conativa.
- e) Conativa e Referencial.

9. Quanto ao estudo da concordância, observa-se alguns critérios específicos. Na frase: “Para todos os 513 deputados e 83 senadores, um a um, perguntando a posição acerca da necessidade de aprovação de um projeto pelo fim do voto secreto.” Temos um exemplo correto, no entanto, em uma das frases abaixo há um equívoco, qual?

- a) Tudo eram planos para o futuro.
- b) Isto são calúnias.
- c) A maior parte foi interpretações maldosas.
- d) A maioria eram despreparados.
- e) Aquilo eram só planos.

10. Em muitas placas espalhadas nas entradas das cidades brasileiras (Bem-vindo a ou à...) vemos o uso indiscriminado do acento indicador de crase. No título do texto em estudo, “Bem-vindo à era da cidadania digital”, há o uso correto do acento grave, mas em apenas um dos itens abaixo seu uso também está correto, aponte-o.

- a) Bem-vindo à Bahia.
- b) Bem-vindo à Santa Catarina.
- c) Bem-vindo à São Paulo.
- d) Bem-vindo à Goiás.
- e) Bem-vindo à Minas Gerais.

Nome: _____

Redação

Considerando o texto abaixo – e o que você já conhece sobre o assunto - redija um artigo opinativo abordando a necessidade de adaptação dos jornalistas em face das mudanças que a internet provocou no jornalismo. Procure não se restringir às ideias expostas; use as suas. Dê um título. Escreva entre 20 e 30 linhas.

....

Rosental Alves, professor na Universidade de Austin, Texas, acredita que esta nova sociedade ainda não tem um nome definido. [...]

Pela primeira vez na História, o dispositivo que recebe também começa a emitir. A tecnologia digital derruba fronteiras entre os meios e todos passam a ser multimídia, tal como a ideia de periodicidade fixa se torna obsoleta (porque a informação é instantânea e está sempre disponível na Internet), explica Rosental Alves.

Segundo o professor , os media tradicionais já estão a perder poder e controle e há três mudanças fundamentais:

- redes ativas substituem ou convivem com audiências passivas
- meios multimídia substituem ou convivem com meios monomídia
- ruptura da periodicidade tradicional das entregas informativas

Daí que a ruptura nos modelos de negócio seja inevitável.

O jornalismo, segundo Rosental Alves, deixou de ser monopólio do jornalista, “quer queiramos quer não, por muito que professores, estudantes e jornalistas protestem”. Antes, para ser jornalista era necessário um meio tradicional porque não havia audiência noutra sítio, mas hoje já não existe essa barreira.

[...]

Esta “revolução digital”, diz Rosental Alves, é “uma reconstrução que não respeita fronteiras. [de <http://blogciber.wordpress.com>]

Título: _____

1 _____

5 _____

10 _____

15 _____

20 _____

25 _____
